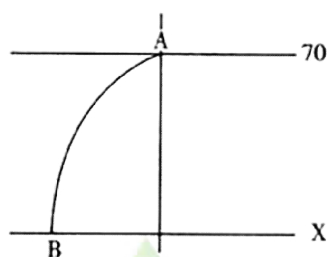


Page3 选择题 1-2 题正确答案为 D、B（答案 Page3）

Page18 选择题 13-14 题完整题目为：

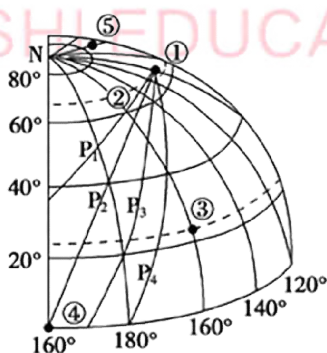
下图中，AB 为晨昏线的一段，A 是晨昏线与 70°N 的切点，B 是晨昏线与北纬 X° 的交点，该日 X° 纬线圈上的昼弧和夜弧之比为 7：5，B 点太阳高度最大时，北京时间为 10 点，据此完成 13-14 题。



13. 若 A 点向南移动，下列说法正确的是（ ）
- A. 福州昼长夜短，且昼在变短
 - B. 全球极昼、极夜范围在缩小
 - C. X 纬度上的人们看到日出东北方
 - D. 此时 A 地吹东南风
14. 图示时刻，太阳直射点的地理坐标为（ ）
- A. 20°S, 45°E
 - B. 20°N, 150°W
 - C. 20°N, 45°E
 - D. 20°S, 150°W

Page20 选择题第 26-27 题：

下图中①为晨线和昏线的交点并向北移，P₁、P₂、P₃、P₄ 中有一条是正确的晨线或昏线。此刻北京时间是 14：40。据此回答 26-27 题。



26. 图中 P₁、P₂、P₃、P₄ 正确的是（ ）
- A. P₁
 - B. P₂
 - C. P₃
 - D. P₄
27. 长沙市下一次与该日昼长相等的日期大约是（ ）
- A. 6 月 2 日前后
 - B. 7 月 12 日前后

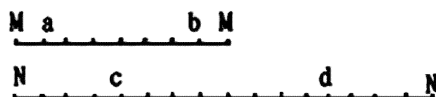
C. 12月2日前后

D. 1月12日前后

Page22 选择题第 33-36 题正确答案: DABD (答案 Page4)

Page22 选择题第 37-38 题题干修改:

下图中, MabM 和 NcdN 表示两条完整的纬线, a、c 和 b、d 分别表示某时刻两纬线与晨线和昏线的交点, 各点间的相对距离如图所示, 读图回答 37~38 题。



37. 以下判断正确的是 ()

A. a 和 c 地方时相同

B. b 和 d 一定在同一日期

C. d 地日出时 a 地正好日落

D. M 和 N 位于同一经线上

38. 如果M 位于北半球, 由 a 到 d 最近的飞行方向是 ()

A. 向正南

B. 向正北

C. 先向西北再向西南

D. 先向东北再向东南

Page37 选择题第 34 题正确答案: B (答案 Page6)

Page39 选择题第 36 题正确答案: D (答案 Page6)

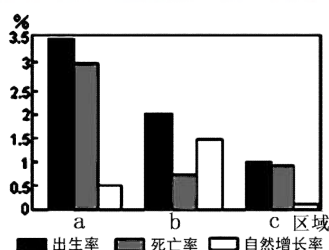
Page40 选择题第 45-46 题的图片印刷出来位置有偏移

Page46 选择题第 4-6 题的图片印刷出来位置有偏移

Page61 选择题第 24-26 题的图片印刷出来位置有偏移

Page74 选择题第 1-2 题:

下图为三个区域的人口统计图。读图回答 1-2 题。



1. a、b 区域的人口增长模式类型分别属于 ()

A. 传统型和过渡型

B. 原始型和传统型

C. 现代型和传统型

D. 现代型和过渡型

2. 影响 c 区域人口自然增长率的主要因素有 ()

- ①经济发展水平较高
- ②人口受教育水平较低
- ③医疗卫生水平较低
- ④人们的生育意愿较低

- A. ①② B. ②③ C. ①④ D. ③④

Page76 选择题第 12-13 题题干修改:

2011 年 12 月 23 日,广州市公布了第六次全国人口普查结果,广州市常住人口为 1270.19 万人;预计到 2020 年末常住人口控制在 1500 万内,这“1500 万”是让广州人“活得舒服”的指标。根据材料回答 12-13 题。

12. 广州提出的“1500 万”是指 ()
- A. 环境人口容量 B. 土地承载力 C. 环境承载力 D. 人口合理容量
13. 制约“1500 万”的首要因素是 ()
- A. 科技发展水平 B. 生活消费水平 C. 资源状况 D. 文化水平

Page89 选择题第 29-31 题:

读下图,完成 29-31 题。



29. 图中黑点表示的地理事物,最有可能的是 ()
- A. 加油站 B. 饭店 C. 超市 D. 工厂
30. 影响该地理事物区位的主要因素是 ()
- A. 人口的数量 B. 车流量 C. 地价 D. 服务范围
31. 图中距离该地中心城市最近的是 ()
- A. ① B. ② C. ③ D. ④

Page96 选择题第 17-18 题下的题号相对应为 17、18 题。

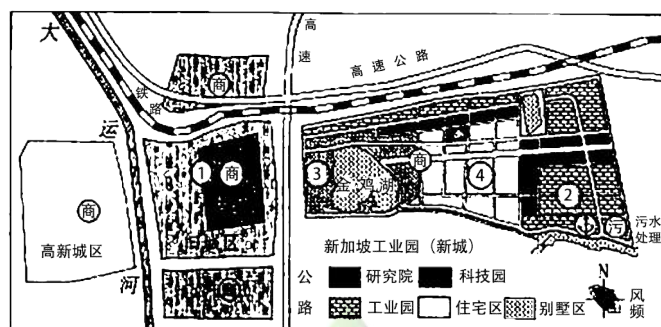
Page106 选择题第 3 题正确答案: D (答案 Page14)

Page114 非选择题第 1 题题干第二段修改:

改革开放以来,随着经济社会的发展,某市(下图)从古城起步,合并周边城镇,新建成东部新加坡工业园和西部高新园两大新城,发展成为面积 130 多平方千米,人口达 221

万的特大型城市。

新加坡工业园区地处旧城东面景色秀丽的金鸡湖畔。自 1994 年开始启动开发以来，累计引进合同外资 307 亿美元，建设了国家级软件园、生物纳米园、创意产业园、中新科技城等，形成一个以电子信息、精密机械、生物制药、新材料为主导的产业集群和工业地域。



- (1) 说出影响图示城市空间形态发展的主要因素，说明该市城市化的特点。
- (2) 说明图示城市①②③④四地的土地利用方式及其有利条件。
- (3) 说明新加坡工业园区区位选择的主要因素。
- (4) 分析新加坡工业园的工业地域类型及形成工业集聚的工业联系方式。

Page115-116 非选择题第 3 题第 (3) 小题目干：

材料一 底特律兴起的 18 世纪，内河水运是美国最重要的运输方式。底特律和其所在的密歇根州，依靠优越的条件，一跃成为美国的重工业中心。底特律始建于 1701 年，1830 年后工业稳步成长，1903 年世界第一家汽车公司建立，此后迅速发展为世界著名的“汽车城”，通用、福特和克莱斯勒三大汽车公司总部齐聚于此。20 世纪 70 年代受到石油危机重创，加上日本、德国等国汽车生产的冲击，开始走向衰落。20 世纪 90 年代以后发展了赌场等第三产业，但未能扭转经济衰退趋势。2007 年房地产市场崩溃，2013 年 2 月 19 日底特律市宣布已经陷入财政危机。

材料二 北美五大湖地区主要工业城市分布图。



- (1) 简述 18 世纪底特律成为重工业中心的区位优势。
- (2) 说出除交通和市场因素外，底特律 20 世纪成为汽车城的主要原因。
- (3) 依据图文资料，底特律日趋衰落，直至陷入财政危机的具体原因有哪些？

Page118 选择题第 3-4 题正确答案：DD（答案 Page16）

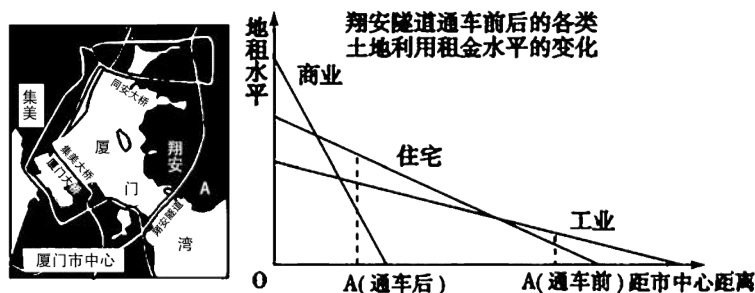
Page121-122 选择题第 16-17 题正确答案：AC（答案 Page16）

答案 Page16 选择题无 19-20 题。

Page118 非选择题第 1 题题干小数点全半角修改：

1. 读下图和材料，结合有关知识，回答下列问题。

翔安海底隧道兼具公路和城市道路双重功能，该工程全长 8.69 公里，跨越海域宽约 4200 米，隧道全线共设 12 处行人横通道和 5 处行车横通道，是厦门环东海域地区发展的重要通道。2009 年底建成通车后，翔安到岛内的距离将由 2 个小时变为 15 分钟的车程，缩短大约 50 多公里的路程。



- (1) 据图说出翔安的土地在隧道通车前、后租金水平的变化。
- (2) 据图说明翔安的土地在隧道通车前、后利用方式的变化。
- (3) 分析厦门市（中心）出岛通道建设对城市化、城市空间形态和商业布局的影响。

Page127 选择题第 2 题题目词语“目地”修改为“目的”：

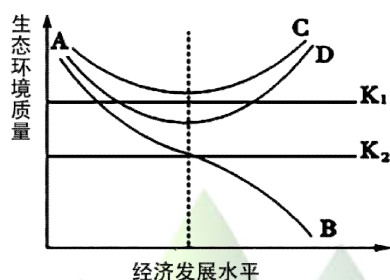
2. 4月初, 上游两大型水库开闸同时向白洋淀放水, 计划为期两个月。目的是 ()

- A. 减轻上游水库的压力
- B. 水库冲淤排沙
- C. 改善白洋淀的水质
- D. 提高白洋淀的通航能力

Page129 选择题 13-14 题题干修改:

生态城市建设是促进城市可持续发展的必然选择。下图表示生态城市建设面临的三条道路。

K_1 表示生态环境质量安全警戒线, K_2 表示生态环境质量恶化警戒线。读图回答 13-14 题。



13. 我国生态城市建设中最不可取的道路是 ()

- A. AB 曲线
- B. K_2 线
- C. AC 曲线
- D. AD 曲线

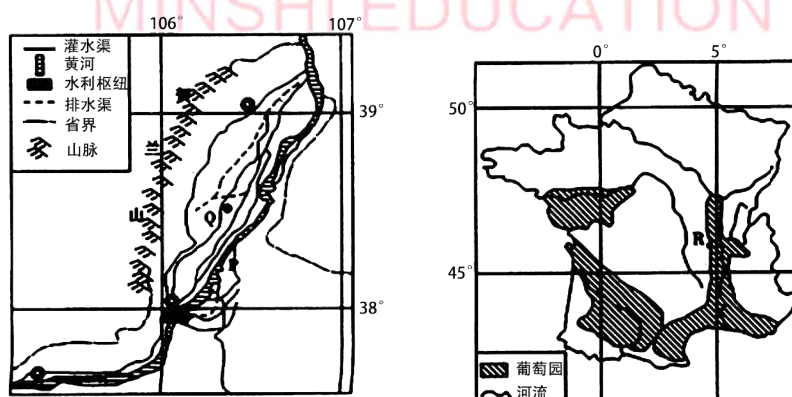
14. 将福州建设成为生态城市的合理措施有 ()

- ①增加城市绿地面积
- ②控制城市化进程
- ③集中布置城市用地
- ④限制高耗能、高污染产业的发展
- ⑤改善城市交通和居住条件
- ⑥将生活垃圾分类放置处理, 合理使用再生资源

- A. ①③④⑥
- B. ①④⑤⑥
- C. ①②⑤⑥
- D. ②③④⑤

Page132 非选择题第 1 题题干修改:

1. 读下图和材料, 完成下列问题。



材料一 20 世纪 90 年代初, 中国和法国有关专家经过考察, 发现宁夏北部、贺兰山东麓地区的小气候十分适合优质葡萄的生长。宁夏人民经过两年的辛勤劳动, 一起完成 3 万亩葡萄基地和防护林的建设。

材料二 Q、R 两地气候资料对比。

地点	海拔 (米)	1 月均温 (°C)	7 月均温 (°C)	1 月降水量 (mm)	7 月降水量 (mm)	年降水 量 (mm)	年日照时数 (小时)
R	201	2.6	20.7	54.1	60.6	824.5	1975.3
Q	1111	-8.4	23.3	1.2	42.2	193.7	2975.7

- (1) 左图中贺兰山是我国重要的地理界线，请任列举一项_____。
- (2) 每年初冬和早春，黄河在 P 河段会发生_____现象，容易产生决堤泛滥。简述 P 河段出现该现象的原因。
- (3) 简述法国 R 地一月份均温比宁夏 Q 地高的主要原因。
- (4) 与法国葡萄园相比，请说出贺兰山东麓地区发展葡萄种植有哪些有利条件。
- (5) 如果大量利用丰富的黄河水资源在贺兰山东麓地区发展 120 万亩葡萄生产，可能对本地和黄河中下游地区产生的不利影响有哪些？

Page137 选择题第 3-4 题题干修改：

西北干旱半干旱地区是我国生态环境比较脆弱的地区。据此完成下列 3-4 题。

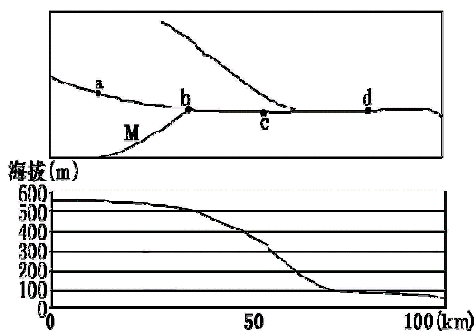
3. 下列关于西北地区的说法，不正确的是（ ）
- A. 本区自东向西降水递减是因受夏季风影响程度不同
 - B. 大风是本区最为显著的自然特征
 - C. 本区生态环境的脆弱主要在于干旱的自然环境
 - D. 塔里木盆地多属于干旱和极端干旱区，分布有大面积的沙漠和戈壁
4. 西北干旱半干旱地区由东向西，植被由草原—荒漠草原—荒漠的变化原因是（ ）
- A. 水分差异
 - B. 热量差异
 - C. 地形差异
 - D. 人类耕作方式的不同

Page141 选择题第 25 题删除（对应答案 Page19 选择题第 25 题删除）

Page146 选择题第 6-7 题正确答案：DB（答案 Page20）

Page147 选择题第 9-10 题补充图片：

下图为 M 河流域河流分布图及其干流河床对应的剖面图，读图回答 9-10 题。



9. 计划开发河流的水能，修建大坝的最理想位置是 ()
- A. a 处 B. b 处 C. c 处 D. d 处
10. M 河流域植树造林，植被主要的生态功能是 ()
- A. 防风固沙 B. 调节气候
- C. 涵养水源、保持水土 D. 美化环境

Page151 选择题第 25-26 题正确答案：AC (答案 Page20)

Page162-163 选择题第 21-24 题正确答案：BDCA (答案 Page22)

答案 Page23 非选择题第 6、5 题的题号调回第 5、6 题。

Page178 选择题第 2 题：

2. 关于甲乙两图的说法正确的 ()
- A. 塔斯马尼亚岛、北岛、南岛都是温带海洋性气候，但是南岛人口密度大
- B. 塔斯马尼亚岛、北岛、南岛都在板块消亡边界处，多火山地震
- C. 塔斯马尼亚岛是大陆岛，北岛、南岛都是火山岛
- D. 塔斯马尼亚岛森林覆盖率位于全澳之首，而南岛和北岛天然牧场或农场占图上面积的一半

Page179 选择题第 8 题正确答案：A (答案 Page24)

Page179 选择题第 9-10 题表格：

项目	俄罗斯	加拿大	中国	美国	巴西	澳大利亚
人口密度 (人/km ²)	8.6	3.2	131	27.5	19.1	2.4
人均具备生产能力的土地面积 (公顷)	1.39	2.5	0.21	1.64	1.47	25
人均水资源量 (m ³ /人)	30599	98162	2292	9113	12973	18963
森林总面积 (万 km ³)	754.9	217.2	133.8	209.6	566	39.8
总劳动力 (千人)	12534	12340	583640	11687	7000	7713

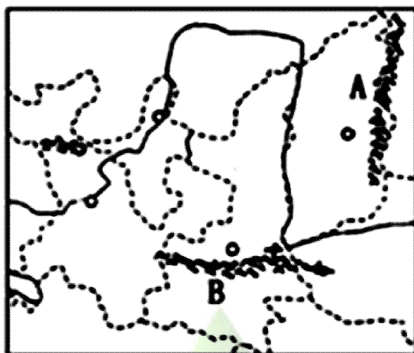
9. 该表格反映出中国与世界大国哪些方面的差距 ()
- A. 综合国力方面 B. 劳动生产率方面

(3) 针对兰州高原夏菜价格持续低迷的现状，请你提出有效的解决方案。

Page212 非选择题第 3 题图片附在材料一下：

3. 阅读图文资料，完成下列问题。

材料一 黄土古高原位置示意图。



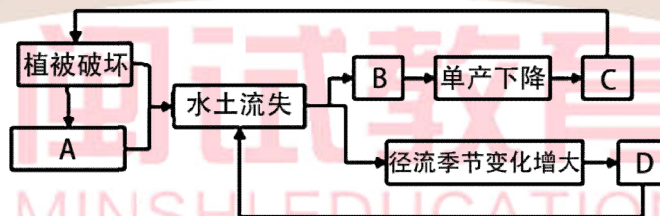
材料二 山西是我国重要的煤炭基地，为了提高能源工业的经济效益，山西省加强了能源的加工转换，变输煤为输出电力和输出焦煤。

(1) 写出下列山脉的名称。A _____； B _____。

(2) 治理该区域水土流失的工程措施有哪些？

(3) 结合所学知识，将下面四项填入图中适当的空格中，使之完成一个循环过程。

- ①土壤肥力下降 ②进一步毁林开荒 ③洪水灾害增多 ④暴雨增多



(4) 分析山西在开采煤炭的过程中，可能导致的环境问题。

(5) 简述山西省电力输出对当地和输入地地理环境产生的影响。